

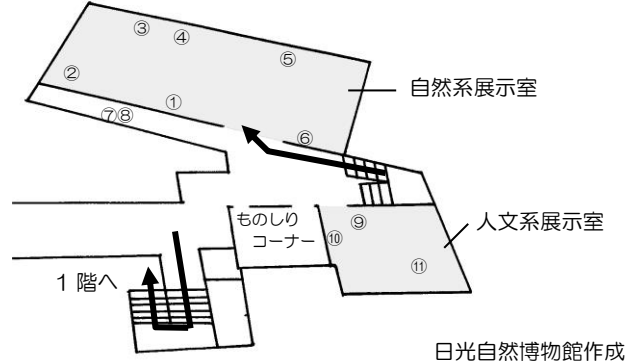
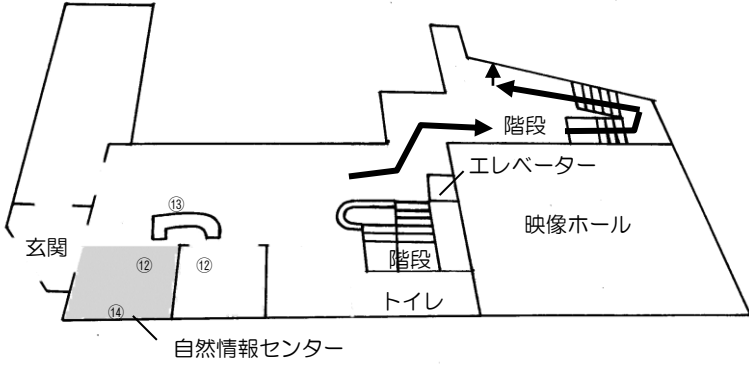
クイズシート①

() 小学校 () 年 () 組 氏名 ()

<1階>

<2階>

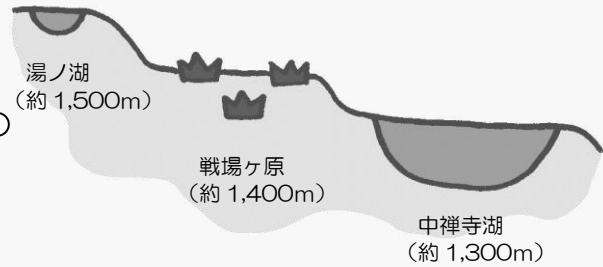
※①～⑭は、それぞれの問題のヒントがある場所だよ。



日光自然博物館作成

① 下の図は、奥日光の地形を簡単に表したものです。
さて、今、みんながいるのは標高何mのところでしょう。○をつけてみて！

自然

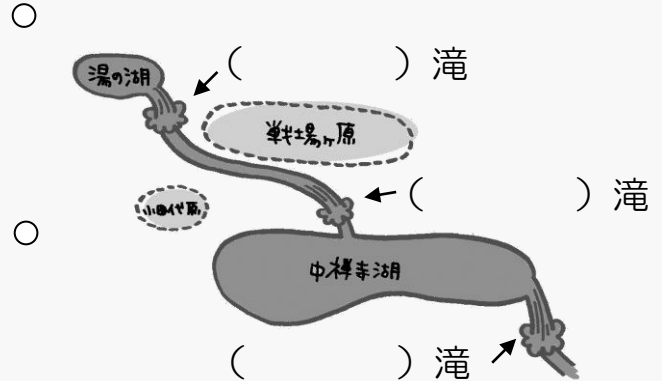


歴史

その他

② 奥日光には有名な滝が3つあります。さて、それぞれの滝の名前は何でしょう？

自然



歴史

その他

③ シラカンバの幹はどんな手触りかな？ 感じたことを書いてみよう。

自然

歴史

その他

④ 奥日光にいない動物に○をつけよう。

自然



歴史

その他

⑤ 『ラムサール条約』の正式名称はな～んだ？

自然

歴史

その他



⑥ ハイキングをするときに気をつけなければならないことはなんだろう？ 今後、一番気をつけようと思うこととその理由を書いてみよう。

自然

歴史

その他

⑦ ホシガラスという鳥に会えるのはどんなときかな？

A. 山に登っているとき

B. 戦場ヶ原を歩いているとき

C. 夜に露天風呂に入っているとき

自然

歴史

その他

⑧ どの生き物の足かな？線をつないでみよう！



ヒドリガモ

●



シカ

●



アオサギ

●



自然

歴史

その他

⑨ 戦場ヶ原の伝説では誰と誰が戦った？

自然

歴史

その他

⑩ 『勝道上人』の読み仮名を書こう。

自然

歴史

その他

⑪ イザベラ・バードは何をした人でしょう？
次の中から選んでね。

A. フライフィッシングを日光で最初に行った人

B. いろは坂を命名した人

C. 奥日光の魅力を世界に広めた人


自然

歴史

その他

⑫

シカの角の絵をかこう。



自然

歴史

その他

⑬ シカのオスの骨はどれ？○をつけてね。

A

B

C



するどい歯が特徴

BとCは似てるけど、頭の
上部が少し違うよ！

自然

歴史

その他

⑭ ダレのうんちがどのウンチ？線で結ぼう！



キツネ

●



ウサギ

●



サル

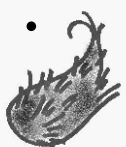
●



ころころ丸いよ



三角形でおむすびみたい



なんだか毛だらけ

自然

歴史

その他